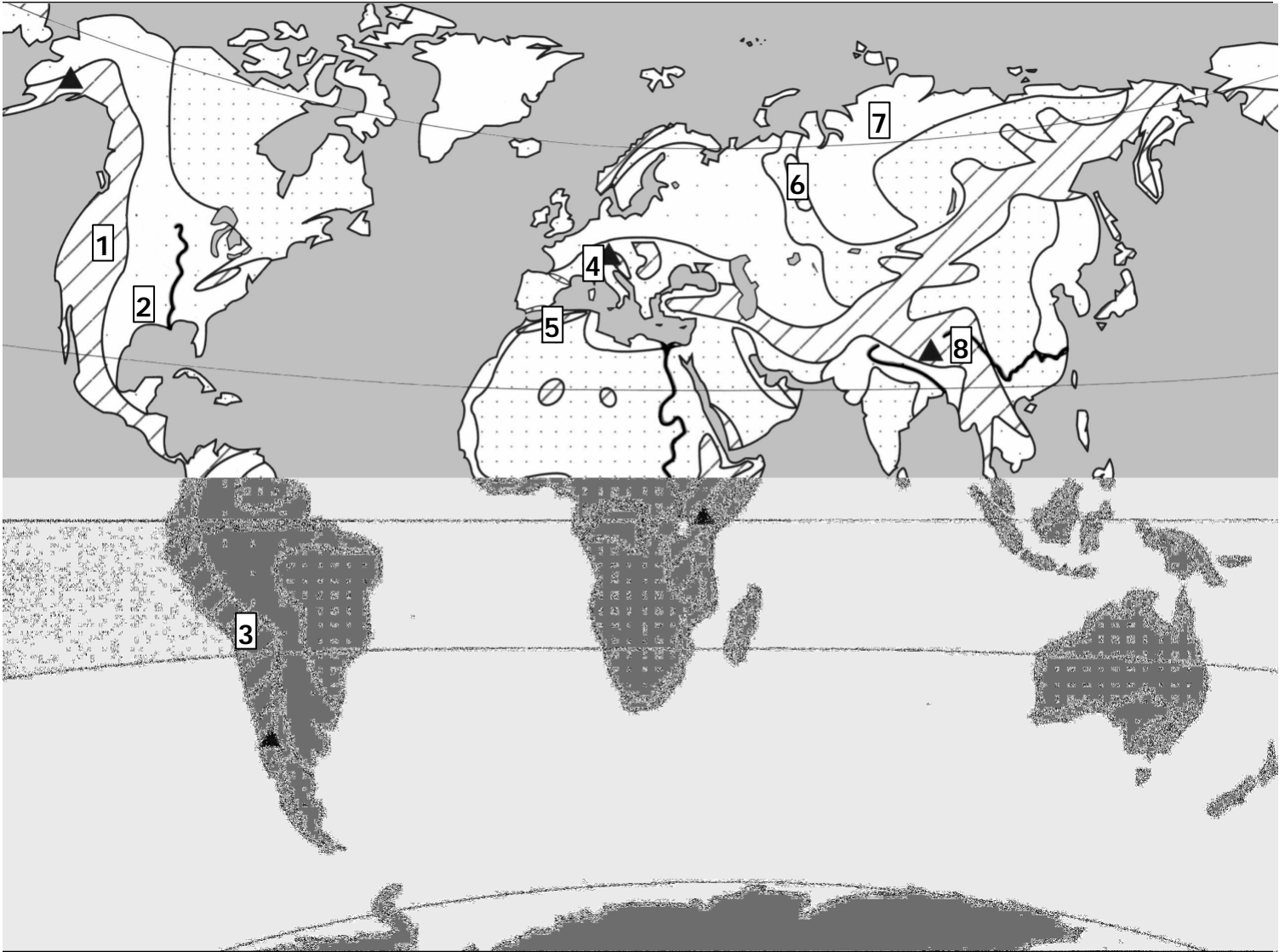



Les grands reliefs sur la terre




1. Complétez la légende avec votre livre p. 230



.....
.....



.....
.....



.....
.....



.....
.....



..... (écrivez leurs noms sur la carte)

2. Sur la carte retrouvez le numéro des grandes chaînes de montagnes suivantes :

n° : ... Cordillères des Andes
n° : ... Rocheuses
n° : ... Alpes
n° : ... Himalaya

n° : ... Oural
n° : ... Atlas
n° : ... Sibérie
n° : ... Grandes Plaines

3. Ecrivez en bleu le nom des 6 grands fleuves suivants sur la carte :

Amazone - Mississippi - Gange - Chang Jiang - Zaire - Nil