


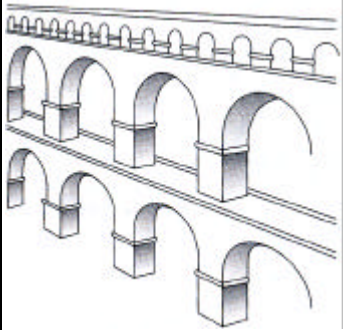


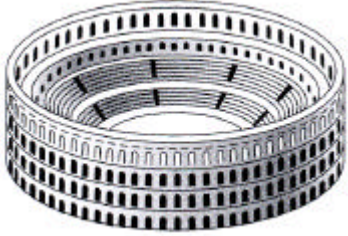

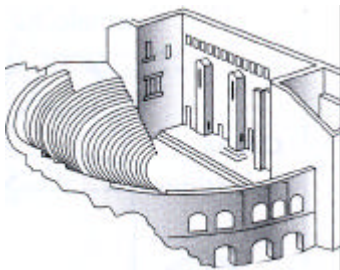

# 1. Les principaux monuments romains

1. Indiquez pour chaque monument le nom qui lui correspond :

*Amphithéâtre – Aqueduc – Arc de triomphe – Cirque – Temple – Théâtre – Thermes – Insula*

2. Indiquez ensuite pour chaque monument la fonction qui correspond :

- *grand théâtre de forme ovale, pour les combats de gladiateurs ou d'animaux.*
- *construction qui permet d'amener de l'eau dans les villes.*
- *monument construit pour la gloire d'un vainqueur.*
- *lieu où se déroulent les courses de chars*
- *lieu de culte en l'honneur des dieux mais aussi de l'empereur.*
- *lieu où l'on jouait des pièces de comédie ou de tragédie.*
- *bains publics.*
- *immeuble à louer.*

<p>nom : .....</p>  <p>fonction : .....</p> <p>.....</p> <p>.....</p> <p>.....</p> <p>.....</p> <p>.....</p>	<p>nom : .....</p>  <p>fonction : .....</p> <p>.....</p> <p>.....</p> <p>.....</p> <p>.....</p> <p>.....</p>	<p>nom : .....</p>  <p>fonction : .....</p> <p>.....</p> <p>.....</p> <p>.....</p> <p>.....</p> <p>.....</p>	<p>nom : .....</p>  <p>fonction : .....</p> <p>.....</p> <p>.....</p> <p>.....</p> <p>.....</p> <p>.....</p>
<p>nom : .....</p>  <p>fonction : .....</p> <p>.....</p> <p>.....</p> <p>.....</p> <p>.....</p> <p>.....</p>	<p>nom : .....</p>  <p>fonction : .....</p> <p>.....</p> <p>.....</p> <p>.....</p> <p>.....</p> <p>.....</p>	<p>nom : .....</p>  <p>fonction : .....</p> <p>.....</p> <p>.....</p> <p>.....</p> <p>.....</p> <p>.....</p>	<p>nom : .....</p>  <p>fonction : .....</p> <p>.....</p> <p>.....</p> <p>.....</p> <p>.....</p> <p>.....</p>